

# Kartografie

## V časech mezi poustevnami a koněspřežkou

### Pracovní list k výstavě

1. Uveď celé jméno významného kartografa a meteorologa, jemuž je výstava věnována



.....

.....

.....

2. Tento kartograf se léčil v lázních v Teplicích. Kvůli čemu?

- a) Zápal plic po nachlazení
- b) Zlomená noha po pádu z koně
- c) Popáleniny kvůli zasažení bleskem

**3. Kde v Čechách najdeme nejdelší řadu pravidelných meteorologických měření?**

a) Sněžka



b) Klementinum



c) Litoměřice



**4. Barvy mají v mapách významnou roli. Jakou barvou jsou obvykle znázorněny:**

Hory .....

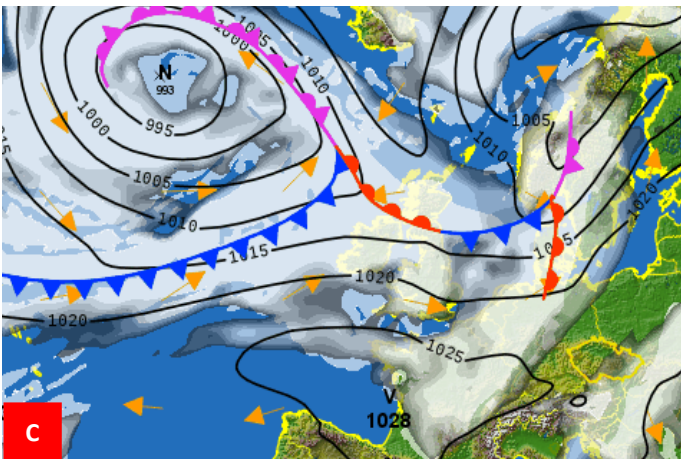
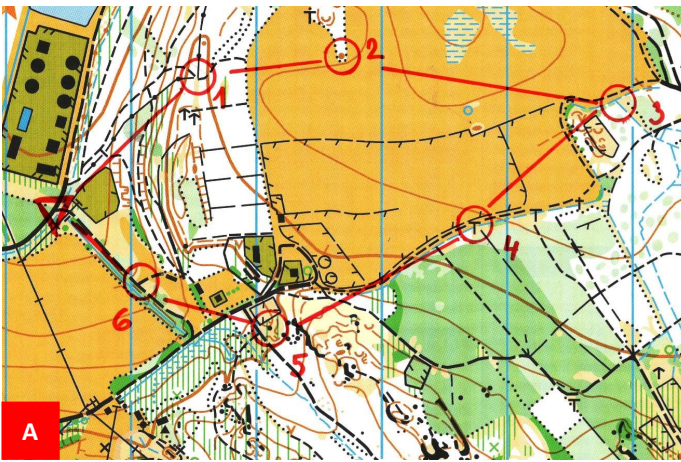
Vodstva .....

Nížiny .....

Pouště .....

## 5. Existují různé druhy map. Přiřaď správně jejich názvy

1. Meteorologická mapa .....
2. Satelitní mapa .....
3. Turistická mapa .....
4. Mapa na orientační běh .....
5. Politická mapa .....



6. Spoj mapové značky s jejich významem.



Kostel



Kaple



Zámek, hrad



Zřícenina



Pomník



Propast



Tábořiště



Muzeum



Horská služba

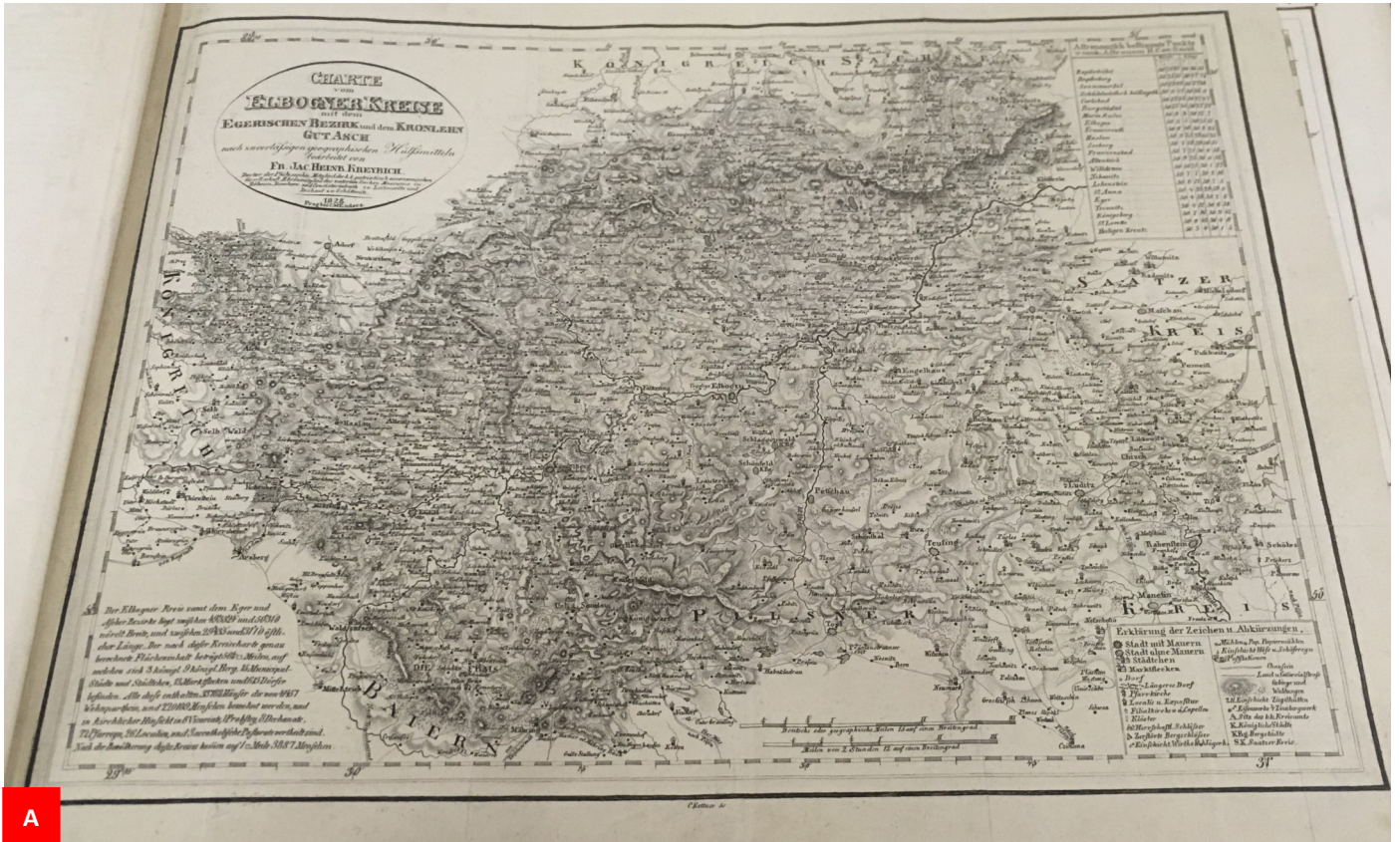


Pramen



Přírodní

## 7. Která mapa je vytvořena technikou tzv. kyanotypie?



A



B

## **8. Zkus vytvořit vlastní mapu okolí tvé školy**

## Řešení

1. František Jakub Jindřich Kreibich

2. c

3. b

4. hory—hnědá, vodstva—modrá, nížina—zelená, pouště—žlutá

5. 1-C, 2-E, 3-D, 4-A, 5-B

6.  Pramen  Horská služba

 Propast  Kostel

 Přírodní  
zajímavost  Zámek, hrad

 Kaple  Pomník

 Tábořiště  Muzeum

 Zřícenina

7. b

